



ഗുണമേന്മ പ്രവർത്തനപദ്ധതി - മാതൃകാ ചോദ്യങ്ങൾ

ക്ലാസ്-3

ENGLISH

### A lion and a mouse

Once upon a time, there lived a lion and a mouse. One day the lion was sleeping. The mouse started playing on it. The lion woke up. He caught up the mouse and was going to kill him. The mouse requested for forgiveness. The lion let him go. After some days, the lion was caught in a net. The mouse cut the net with his teeth. The lion was saved. He thanked the mouse.

- 1) Who was sleeping ?  
(cow, mouse, lion ,tiger)
- 2) Who started playing in the lion?  
(lion, mouse, cat, rabbit)
- 3) Where was the lion trapped?  
(in basket, in nest, in net, in a hole)
- 4) Why did the lion thank the mouse?
  - because they are friends
  - because the mouse saved the lion
  - because the lion caught in a net
  - because the lion was not free
- 5) What did the mouse request for?
  - happiness
  - Forgiveness
  - cleanliness
  - softness

## പരിസരപഠനം

1. കുട്ടത്തിൽ പെടാത്തത് ?  
A. ആന  
B. അയല  
C. കടൽകുതിര  
D. കടൽവെള്ളരി
2. താഴെ നൽകിയിരിക്കുന്ന ശരീരഭാഗം ഏത് ജീവിയുടേതാണ് ?



- A. മുയൽ
- B. ഉറുമ്പ്
- C. കാക്ക
- D. ആന

3. ഓഷധിയുടെ പ്രത്യേകതയിൽ പെടാത്തത് ഏത്?  
A. തണ്ട് മുദുവാൺ.  
B. ആഴത്തിൽ വേരോട്ടമില്ല.  
C. ദീർഘകാലം നിലനിൽക്കുന്നു  
D. ചെറിയ സസ്യങ്ങളുടെ കുട്ടത്തിൽ പെടുന്നു.
4. വള്ളിച്ചെടികളുടെ കുട്ടം കണ്ടെത്തുക?  
A. മുന്തിരി, മാവ്, മത്തൻ  
B. മുന്തിരി, മത്തൻ, വെള്ളരി  
C. ആമ്പൽ, മത്തൻ, പടവലം  
D. കോവൽ, പാവൽ, പ്ലാവ്
5. രാത്രിയിൽ വിരിയുന്നു  
വെളുപ്പു നിറം  
സുഗന്ധമുണ്ട്  
കുറ്റിച്ചെടിയാണ്.  
ഏത് ചെടിയെക്കുറിച്ചാണ് മുകളിൽ സൂചിപ്പിച്ചിരിക്കുന്നത്?  
A. താമര  
B. റോസ  
C. മുല്ല  
D. കോളാമ്പി

## ഭാഷ

യാത്രാ വിവരണം വായിച്ച് 1 മുതൽ 5 വരെയുള്ള ചോദ്യങ്ങൾക്ക് ഉത്തരം അടയാളപ്പെടുത്തുക?

2015 ഏപ്രിൽ മാസത്തിൽ എന്റെ ജീവിതത്തിലെ ഒരിക്കലും മറക്കാൻ കഴിയാത്ത ദിവസമാണ്. അന്നാണ് ഏറ്റവും സന്തോഷം നിറഞ്ഞ ഒരു യാത്ര പോയത്. “ ഗാർഡൻ സിറ്റി ” എന്നറിയപ്പെടുന്ന ബാംഗ്ലൂരിലേക്കാണ് പോയത്. ലാൽബാഗ് ബോട്ടാണിക്കൽ ഗാർഡനിലേക്കാണ് ആദ്യം പോയത്. ബാംഗ്ലൂർ നഗരത്തിന്റെ മധ്യത്തിൽ സ്ഥിതി ചെയ്യുന്ന പാർക്കാണ് ഇത്. നഗരത്തിന്റെ തിരക്കിൽ നിന്ന് മാറി പ്രകൃതിയുമായി അടുക്കാൻ പറ്റിയ ഒരു സ്ഥലം. ബാംഗ്ലൂരിൽ നിന്നും തിരിച്ച് ഞാൻ മൈസൂർ വഴിയാണ് നാട്ടിലേക്ക് വന്നത്. കർണ്ണാടകത്തിലെ പ്രധാനപ്പെട്ട മറ്റൊരു നഗരമാണ് മൈസൂർ.

1. എങ്ങോട്ടാണ് യാത്ര പോയത്?
  - A. ബാംഗ്ലൂർ
  - B. കുശാൽനഗർ
  - C. ഉൗട്ടി
  - D. മംഗലാപുരം
2. ഏത് മാസത്തിലാണ് ടൂർ പോയത്?
  - A. ജനുവരി
  - B. ഫെബ്രുവരി
  - C. മാർച്ച്
  - D. ഏപ്രിൽ
3. ബാംഗ്ലൂർ സ്ഥിതി ചെയ്യുന്ന സംസ്ഥാനം?
  - A. കേരളം
  - B. തമിഴ്നാട്
  - C. കർണാടക
  - D. ഗോവ
4. ബാംഗ്ലൂരിനെ വിശേഷിപ്പിക്കുന്ന മറ്റൊരു പേര്?
  - A. ഇന്ത്യയുടെ മുട്ടപാത്രം
  - B. സൈക്കിൾ നഗരം
  - C. ക്ഷേത്രനഗരം
  - D. ഗാർഡൻ സിറ്റി
5. പാർക്കിലേക്ക് പോകാൻ കാരണം ?
  - A. പ്രകൃതിയുമായി അടുക്കാൻ
  - B. തിരക്ക് ഇഷ്ടമുള്ളതുകൊണ്ട്
  - C. സിനിമ കാണാൻ
  - D. കുതിരസവാരി നടത്താൻ

## ഗണിതം

1. താഴെ കൊടുത്തവയിൽ നിങ്ങളുടെ ക്ലാസ്സിലെ മേശയുടെ നീളം അളക്കാൻ ഉപയോഗിക്കുന്ന ഉപകരണം ഏതാണ്?



2. വിട്ട ഭാഗത്ത് സംഖ്യ ഏതാണ്?

6, 12, 18 ,.....,30

- A. 22
- B. 20
- C. 24
- D. 26

3. സംഖ്യാകാർഡുകളെ ചെറുതിൽ നിന്ന് വലുതിലേക്ക് അടുക്കിയാൽ ശരിയായത് ഏത്?

55
44
33
22
11

A

22
45
55
33
11

B

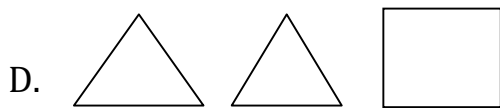
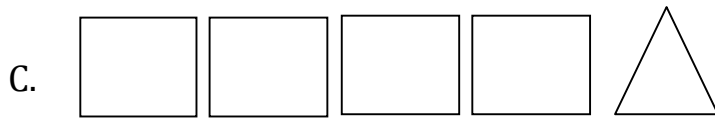
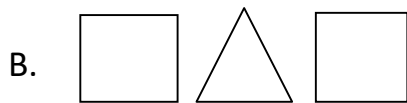
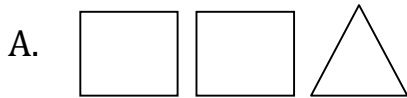
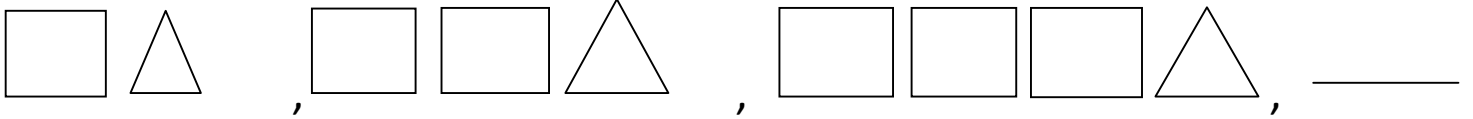
11
22
44
33
55

C


11
44
33
55
22

D

4. പാറ്റേൺ നോക്കൂ. അടുത്ത ചിത്രം ഏതാണ്?



5. പ്രീതി കടയിൽ ചെന്ന് 1 കിലോഗ്രാം പഴവും, 1 കിലോഗ്രാം ഉള്ളിയും,  
2 കിലോഗ്രാം വെണ്ടയും വാങ്ങി



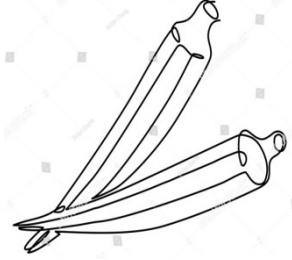
ഉള്ളി

1 കിലോഗ്രാമിന് 30 രൂപ



പഴം

1 കിലോഗ്രാമിന് 26 രൂപ



വെണ്ട

1 കിലോഗ്രാമിന് 18 രൂപ

അവൾ 100 രൂപ നൽകി. എങ്കിൽ എത്ര രൂപ ബാക്കി കിട്ടും?

- A. 10
- B. 8
- C. 9
- D. 12